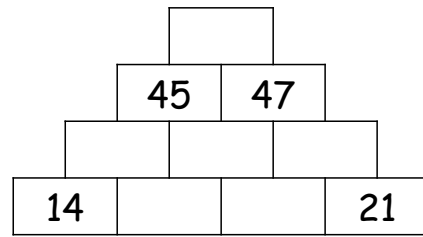
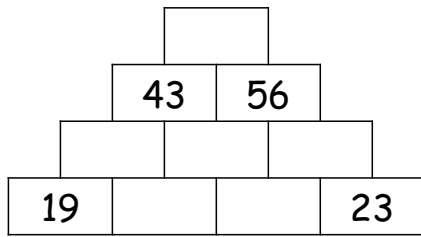
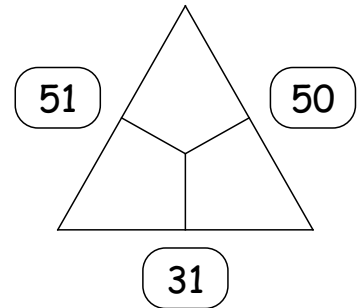
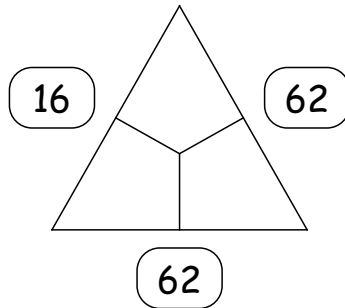
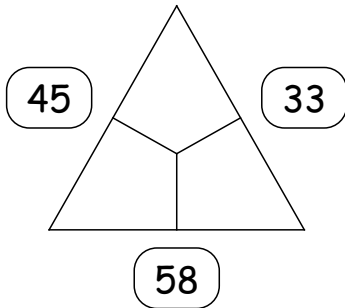


# Knobelaufgaben

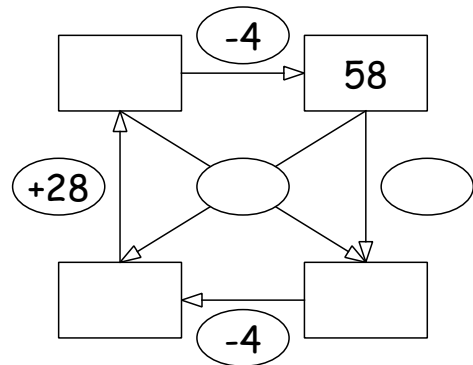
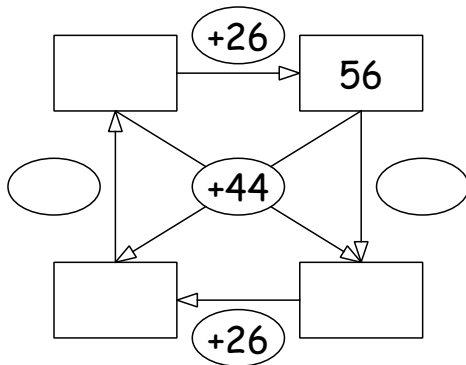
## 1 Knobelmauern.



## 2 Knobeldreiecke.



## 3 Rechennetze.



## 4 Zahlenrätsel

Nikita zählt drei aufeinanderfolgende Zahlen zusammen und erhält 57.

**Frage:** Welche Zahlen hat er zusammengezählt?

**Rechnung:**


**Antwort:** Die drei Zahlen sind die \_\_\_\_\_, die \_\_\_\_\_ und die \_\_\_\_\_.

Ich nehme 15 von meiner Zahl weg. Ich bekomme 21 mehr als 46.

**Frage:** Wie lautet meine Zahl?

**Rechnung:**


**Antwort:** Meine Zahl lautet \_\_\_\_\_.